

XIV Historicus

(szkolny konkurs historyczny 2021/2022)

1. Odpowiedz: czy teksty i ilustracja dotyczą tej samej cywilizacji? Uzasadnij swój wybór. Podaj nazwę cywilizacji. [3p.]

tekst 1: [...] Jam jest król, który zmusił do posłuszeństwa cztery strony świata, ulubieniec bogini Isztar...

tekst 2: § 196: Jeśli obywatel wybił oko jednemu z obywateli, należy wybić jego oko.



Czy teksty i ilustracja dotyczą tej samej cywilizacji?


Uzasadnienie:

.....
.....
.....
.....
.....
.....
.....
.....
.....

Nazwa cywilizacji:

2. Odpowiedz: czy tekst i ilustracja dotyczą tej samej cywilizacji? Uzasadnij swój wybór. Podaj kogo przedstawia ilustracja? [3p.]

[...] Nasz ustrój polityczny nie jest naśladownictwem obcych praw, a my sami raczej jesteśmy wzorem dla innych niż inni dla nas. Nazywa się ten ustrój demokracją, ponieważ opiera się na większości obywateli, a nie na mniejszości...



Czy teksty i ilustracja dotyczą tej samej cywilizacji?.....

Uzasadnienie:

.....
.....
.....
.....
.....
.....
.....
.....
.....

Ilustracja przedstawia:


.....

3. Podaj potoczną i właściwą nazwę budowli. Jakie było jej przeznaczenie? [2p.]



.....
.....
.....
.....
.....
.....

4. Kogo przedstawia fragment mozaiki? Kim był? [2.]



.....
.....
.....



.....

.....

.....

.....

.....

.....

.....

.....

.....

.....

9. Odpowiedz: czy tekst i postać dotyczą tego samego wydarzenia? Podaj nazwę dokumentu oraz kogo przedstawia obraz? O jakim wydarzeniu mowa? Użyj odpowiedniego terminu. [4p.]

- „Kościół rzymski przez samego Boga został założony”,
- „Tylko sam biskup rzymski może być prawnie nazwany biskupem powszechnym”,
- „Tylko on sam może biskupów składać z godności lub do nich przywracać”,
- „Jemu wolno władcami rozporządzać, więc i cesarzy z tronu składać”,
- „Żaden przepis prawny i żadna księga kanonów nie może mieć ważności bez jego woli”.



.....

.....

.....

10. Uzasadnij związek pomiędzy tymi obrazkami. [2p.]



Godfryd z Bouillon



.....

.....

.....

.....

.....

.....

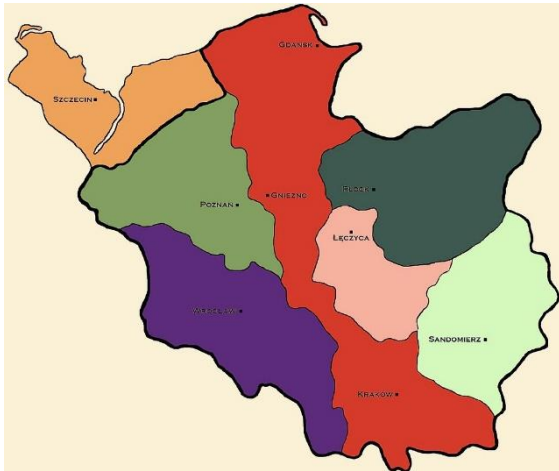
.....

.....

.....

.....

11. Wskaż związek pomiędzy mapą a pomnikiem Leszka Białego. Co przedstawia mapa? Do czego nawiązuje pomnik? [5p.]



Mapa przedstawia:.....



Pomnik nawiązuje:.....

Związek pomiędzy mapą a pomnikiem:.....

12. Jest to wymiagonowany portret jednego z największych zdobywców z początków XIII wieku. Stworzył imperium, które zagrażało sąsiadom przez dziesiątki lat. Kto to był? Wskaż związek z Polską Henryków Śląskich. [3p.]



.....

13. Nazwij dwa „osiągnięcia” średniowiecznego rolnictwa, przedstawione na ilustracji. Podaj pełne nazwy. [2p.]



*

*

14. Wymień chronologicznie cztery pierwsze dynastie panujące u Franków/ we Francji: [2p.]

.....

19. Obraz Artura Grottgera nawiązuje do wydarzeń związanych z pierwszą wolną elekcją. Spróbuj wyjaśnić. [3p.]



.....

20. Podaj imię i nazwę dynastii, z której wywodziła się wybitna królowa z końca XVI wieku. [1p.]



.....

21. Nazwij styl malarski, w którym zostało wykonane to dzieło. [1p.]



.....

22. Czy ilustracja przedstawiająca władcę Moskwy i tekst dotyczą tego samego wydarzenia. Podaj dwie nazwy. Spróbuj nazwać jedną z postaci, z obrazu lub króla z tekstu. [3p.]



Król publicznie bowiem oświadczył na zjeździe w Lublinie, potem w Wilnie, że sposobi się i wyrusza na wyprawę moskiewską dla dobra publicznego, nie zaś z jakichkolwiek prywatnych pobudek. Podkreślił wtedy, że będzie służył korzyściom Rzeczypospolitej, nie zaś swoim własnym i że niczego nie zachowa dla siebie i dla swojego potomstwa, co uzyskałby bronią[...]Jeśli zatem syn króla Władysław został wyniesiony na moskiewski tron, to ten zaszczyt dla jego rodu z całą pewnością byłby sprzeczny z jego obietnicami...

.....

23. Wyjaśnij co przedstawiają ilustracje i podaj krótko związek pomiędzy nimi. [4p.]



.....



.....
.....
.....
.....



.....
.....
.....
.....
.....
.....
.....
.....
.....
.....

24. Kogo przedstawia obraz? Podaj imię/ imiona, dynastię i państwo. [4p.]



.....
.....
.....

.....
.....
.....



.....
.....
.....



.....
.....
.....

30. Nazwij wydarzenia z 1830 roku; wydarzenie, kraj...jak najdokładniej [3p.]



.....
.....
.....
.....



.....
.....
.....



.....
.....
.....
.....

31. Obraz przedstawia cesarza Mutsuhito, z jakim wydarzeniem jest on związany? Podaj w kilku słowach znaczenie tego wydarzenia. [3p.]



.....
.....
.....
.....
.....
.....

32. Kogo przedstawia fotografia? Czego dokonał? [2p.]



.....
.....
.....

33. Nazwij wydarzenie z podaniem roku. [1p.]



.....

.....

.....

.....

34. Nazwij oddział i wydarzenie, z którym są związane ilustracje. Podaj imię i nazwisko przywódcy. [3p.]



.....

.....

.....

.....

.....

.....


.....

.....

.....

.....

35. Z jakim wydarzeniem związana jest ilustracja? Wskaż na postaci i inne historyczne fakty. [5p.]



.....

.....

.....

.....

.....

.....

.....

.....

.....

.....

.....

36. Wyjaśnij z jakim wydarzeniem związana jest ta mapa. [3p.]



.....

.....

.....

.....

.....

.....

.....

.....

.....

.....

41. Nazwij wydarzenie przedstawione na ilustracjach. Podaj rok. [1p.]



.....

42. Kogo przedstawia fotografia? Podaj rok. Nazwij wydarzenie. [2p.]




.....

43. Kto wypowiedział te słowa i co one oznaczały? [2p.]
Władzy raz zdobytej nie oddamy nigdy.


.....

44. Kogo przedstawia obraz? Podaj dwa wydarzenia/ metodę walki o wolność/ prawa stosowane przez niego. [3p.]



.....

45. Podaj z jakim wydarzeniem związany jest rysunek. Wyjaśnij dokładnie symbolikę. [4p.]



.....

46. Z jakim wydarzeniem związana jest fotografia? Podaj nazwiska dwóch osób oraz dokładną datę. [4p.]



.....
